

IV.6. Greenova věta

Křivkový integrál vektorového pole po uzavřené křivce c nazýváme **cirkulací vektorového pole** \vec{f} po křivce c a zapisujeme $\oint_c \vec{f} \cdot d\vec{s}$.

Nechť : 1) vektorová funkce $\vec{f} = (U(x, y), V(x, y))$ má spojitě parciální derivace v oblasti $G \subset \mathbb{E}_2$,
2) křivka $c \subset G$ je kladně orientovaná, uzavřená, jednoduchá, po částech hladká,
3) $\text{int } c \subset G$.

Potom

$$\oint_c \vec{f} \cdot d\vec{s} = \iint_{\text{int } c} \left(\frac{\partial V}{\partial x} - \frac{\partial U}{\partial y} \right) dx dy.$$

POZNÁMKA: Je-li křivka c orientovaná záporně, pak má integrál napravo znaménko mínus.

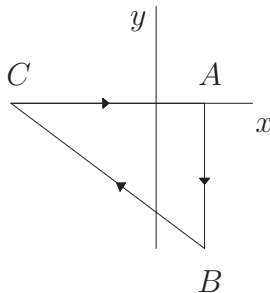
POZNÁMKA: Vyjádřením křivkového integrálu v diferenciálech má tvrzení Greenovy věty tvar:

$$\oint_c U dx + V dy = \iint_{\text{int } c} \left(\frac{\partial V}{\partial x} - \frac{\partial U}{\partial y} \right) dx dy.$$

Příklad 534. Pomocí Greenovy věty spočítejte cirkulaci vektorového pole

$\vec{f} = (2x + 3y, 5x - y - 4)$ po obvodu $\triangle ABC$ ve směru $A \rightarrow B \rightarrow C$, kde $A = [1, 0]$, $B = [1, -3]$, $C = [-3, 0]$.

Řešení:



Cirkulace, tj. $\oint_c \vec{f} \cdot d\vec{s} = \oint_c (2x + 3y, 5x - y - 4) d\vec{s} \stackrel{\text{Gr.v.}}{=} -2 \iint_{\text{int } c} (5 - 3) dx dy = -2 \iint_{\triangle ABC} 1 dx dy =$

$$= -2 \cdot P_{\triangle} = -2 \cdot \frac{1}{2} \|\vec{AB}\| \cdot \|\vec{AC}\| = -12$$

$$= -2 \cdot P_{\triangle} = -2 \cdot \frac{1}{2} \|\vec{AB}\| \cdot \|\vec{AC}\| = -12$$

(orientace křivky c je záporná, proto před dvojným integrálem je znaménko minus) .

■

Příklad 535. Vyšetřete existenci integrálu $\oint_c \left(\ln(x^2 + y^2), -2\text{arctg} \frac{y}{x} \right) \cdot d\vec{s}$ a rozhodněte o možnosti užití Greenovy věty k jeho výpočtu, jestliže $c \subset \mathbb{E}_2$ je kladně orientovaná křivka daná rovnicí a) $x^2 + y^2 = 1$, b) $(x - 1)^2 + y^2 = 1$, c) $(x - 2)^2 + y^2 = 1$, d) c je obvod čtverce s vrcholy $A = [1, 0]$, $B = [0, 1]$, $C = [-1, 0]$, $D = [0, -1]$. Jestliže integrál existuje, vypočítejte jej pomocí Greenovy věty.

Řešení: Definiční obor vektorové funkce $\vec{f} = \left(\ln(x^2 + y^2), -2\text{arctg} \frac{y}{x} \right)$ je $D(\vec{f}) = D_1 \cup D_2$,

$$D_1 = \{[x, y] \in \mathbb{E}_2; x > 0\}, \quad D_2 = \{[x, y] \in \mathbb{E}_2; x < 0\}.$$

$$\frac{\partial U}{\partial x} = \frac{\partial \ln(x^2 + y^2)}{\partial x} = \frac{2x}{x^2 + y^2}, \quad \frac{\partial U}{\partial y} = \frac{\partial \ln(x^2 + y^2)}{\partial y} = \frac{2y}{x^2 + y^2},$$

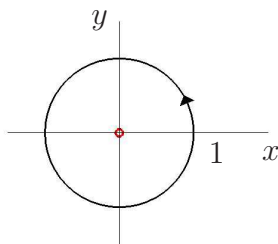
$$\frac{\partial V}{\partial x} = \frac{\partial(-2\text{arctg} \frac{y}{x})}{\partial x} = \frac{2}{1 + (y/x)^2} \cdot \frac{y}{x^2}, \quad \frac{\partial V}{\partial y} = \frac{\partial(-2\text{arctg} \frac{y}{x})}{\partial y} = \frac{-2}{1 + (y/x)^2} \cdot \frac{1}{x}.$$

V oblasti D_1 i v oblasti D_2 je daná funkce spojitá a má spojitě parciální derivace 1. řádu.

Pro libovolnou uzavřenou křivku v D_1 tedy existuje $\oint_c \vec{f} \cdot d\vec{s}$ a pro výpočet lze použít

Greenovu větu. Totéž platí i pro oblast D_2 .

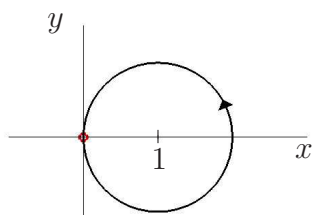
a)



Funkce \vec{f} je spojitá na množině $C \setminus M$, kde $M = \{[0, 1], [0, -1]\}$ (M je dvouprvková množina). Na množině $C \setminus M$ je však funkce \vec{f} omezená, neboť pro každý bod $[x, y]$ ležící mimo osu y je $\left| \arctg \frac{y}{x} \right| < \frac{\pi}{2}$. Křivkový integrál tedy existuje.

Pro výpočet ale nelze použít Greenovu větu, neboť v bodech množiny M , která je částí křivky c není funkce \vec{f} definovaná.

b)

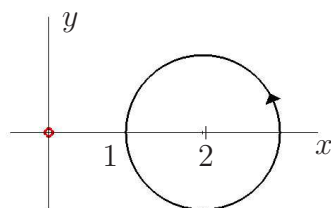


V okolí bodu $[0, 0]$ není funkce \vec{f} omezená, neboť $\lim_{[x,y] \rightarrow [0,0]} \ln(x^2 + y^2) = -\infty$.

Daný integrál tedy neexistuje.

To platí pro libovolnou křivku, která obsahuje bod $[0, 0]$.

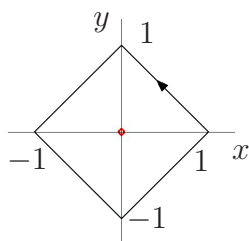
c)



Integrál existuje a lze použít Greenovu větu, neboť křivka c leží v oblasti D_1 . Provedme tedy výpočet.

$$\begin{aligned} \oint_c (U, V) \cdot d\vec{s} &= \iint_{\text{int } c} \left(\frac{\partial V}{\partial x} - \frac{\partial U}{\partial y} \right) dx dy = \iint_{\text{int } c} \left(\frac{2}{1 + (y/x)^2} \cdot \frac{y}{x^2} - \frac{2y}{x^2 + y^2} \right) dx dy = \\ &= \iint_{\text{int } c} 0 dx dy = 0. \end{aligned}$$

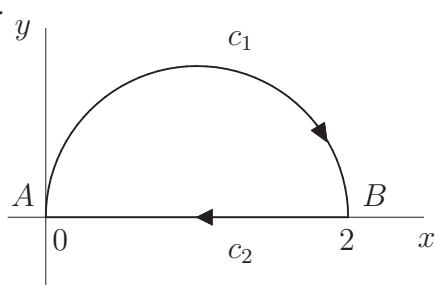
d)



Integrál existuje, ale nelze použít Greenovu větu. Důvod je stejný jako v úloze a).

Příklad 536. Určete cirkulaci vektorového pole $\vec{f} = (-y, x)$ po záporně orientované křivce $c = c_1 \cup c_2$, kde $c_1 = \{[x, y] \in \mathbb{E}_2; x^2 - 2x + y^2 = 0, y \geq 0\}$; $c_2 = \{[x, y] \in \mathbb{E}_2; y = 0, x \in \langle 0, 2 \rangle\}$,
a) přímým výpočtem, b) pomocí Greenovy věty.

Řešení:



$$c_1 : (x - 1)^2 + y^2 = 1, y \geq 0, \text{ počáteční bod je } A = [0, 0]$$

$$c_2 : y = 0, x \in \langle 0, 2 \rangle, \text{ počáteční bod je } B = [2, 0]$$

$$c_1 : \begin{cases} x = 1 + \cos t, \\ y = \sin t, \end{cases} \quad t \in \langle 0, \pi \rangle \quad \Rightarrow \quad \left| \begin{array}{l} P_1(t) = [1 + \cos t, \sin t], \quad t \in \langle 0, \pi \rangle \\ \dot{P}_1(t) = (-\sin t, \cos t) \\ P_1(0) = [2, 0] \Rightarrow \text{nesouhlasná orientace} \end{array} \right|$$

$$c_2 : \begin{cases} y = 0, \\ x \in \langle 0, 2 \rangle \end{cases} \quad \Rightarrow \quad \left| \begin{array}{l} P_2(t) = [t, 0], \quad t \in \langle 0, 2 \rangle \\ \dot{P}_2(t) = (1, 0) \\ P_2(0) = [0, 0] \Rightarrow \text{nesouhlasná orientace} \end{array} \right|$$

$$\begin{aligned} \text{a) } \oint_c \vec{f} \cdot d\vec{s} &= \int_{c_1} \vec{f} \cdot d\vec{s} + \int_{c_2} \vec{f} \cdot d\vec{s} = - \int_0^\pi (-\sin t, 1 + \cos t) \cdot (-\sin t, \cos t) dt - \int_0^2 0 dt = \\ &= - \int_0^\pi (\sin^2 t + (1 + \cos t) \cos t) dt = - \int_0^\pi (1 + \cos t) dt = - [t + \sin t]_0^\pi = -\pi \end{aligned}$$

b) Souřadnicové funkce U, V daného vektorového pole \vec{f} mají spojité parciální derivace v \mathbb{E}_2 . Daná křivka c je uzavřená, po částech hladká. Lze tedy použít Greenovu větu.

$$\oint_c \vec{f} \cdot d\vec{s} \stackrel{\text{Gr.v.}}{=} - \iint_{\text{int } c} (1 + 1) dx dy = -2 \cdot (\text{obsah půlkruhu}) = -2 \cdot \frac{1}{2} \pi \cdot 1^2 = -\pi \quad \blacksquare$$

Příklad 537.* Vypočítejte pomocí křivkového integrálu plošný obsah vnitřku asteriody

$$c = \{[x, y] \in \mathbb{E}_2; x^{2/3} + y^{2/3} = a^{2/3}, a > 0\}.$$

Řešení: Použijeme parametrizaci asteriody :

$$c : \begin{cases} x = a^3 \cos^3 t, \\ y = a^3 \sin^3 t, \end{cases} \quad t \in \langle 0, 2\pi \rangle \quad \Rightarrow \quad \left| \begin{array}{l} P(t) = [a^3 \cos^3 t, a^3 \sin^3 t] \quad t \in \langle 0, 2\pi \rangle \\ \dot{P}(t) = (-3a^3 \cos^2 t \sin t, 3a^3 \sin^2 t \cos t) \end{array} \right|$$

Pro výpočet použijeme důsledek Greenovy věty, podle kterého lze obsah vnitřku křivky c vypočítat pomocí křivkového integrálu:

$$\begin{aligned} P &= \iint_{\text{int } c} 1 dx dy = \frac{1}{2} \oint_c -y dx + x dy = \\ &= \frac{1}{2} \int_0^{2\pi} \left(-a^3 \sin^3 t \cdot (-3a^3 \cos^2 t \sin t) + a^3 \cos^3 t \cdot 3a^3 \sin^2 t \cos t \right) dt = \\ &= \frac{1}{2} \int_0^{2\pi} (3a^2 \cos^2 t \sin^4 t + 3a^2 \sin^2 t \cos^4 t) dt = \frac{3a^2}{2} \int_0^{2\pi} \sin^2 t \cdot \cos^2 t dt = \\ &= \frac{3a^2}{2} \int_0^{2\pi} \frac{\sin^2 2t}{4} dt = \frac{3}{8} a^2 \int_0^{2\pi} \frac{1 - \cos 4t}{2} dt = \frac{3}{16} a^2 \left[t - \frac{\sin 4t}{4} \right]_0^{2\pi} = \frac{3}{8} a^2 \pi \quad \blacksquare \end{aligned}$$

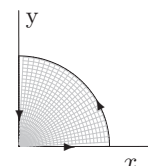
• Je dána množina D a vektorové pole \vec{f} .

a) Napište Greenovu větu (předpoklady a tvrzení).

b) Načrtněte množinu D a vyznačte křivku c , která je kladně orientovanou hranicí této množiny D .

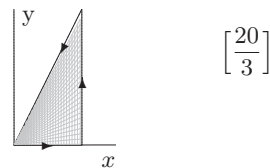
c) Vypočítejte cirkulaci vektorového pole \vec{f} podél křivky c .

538. $D = \{[x, y] \in \mathbb{E}_2; x^2 + y^2 \leq 4, x \geq 0, y \geq 0\}$ $\vec{f} = (xy, x^2 + 2x)$



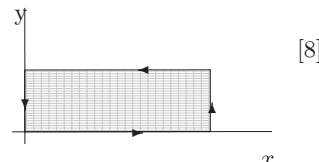
$$\left[\frac{8}{3} + 2\pi \right]$$

539. $D = \{[x, y] \in \mathbb{E}_2; 0 \leq x \leq 2, 0 \leq y \leq 2x\}$, $\vec{f} = (y^2 - 3y, xy)$



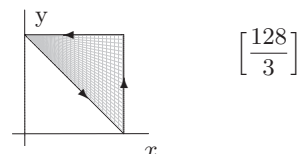
$\left[\frac{20}{3}\right]$

540. $D = \{[x, y] \in \mathbb{E}_2; 0 \leq x \leq 3, 0 \leq y \leq 1\}$, $\vec{f} = \left(\frac{1}{3}y^3, x^2 + y^2\right)$.



[8]

541. $D = \{[x, y] \in \mathbb{E}_2; 0 \leq x \leq 4, 4 - x \leq y \leq 4\}$, $\vec{f} = (y^2, (x + y)^2)$



$\left[\frac{128}{3}\right]$

542. Vyšetřete existenci integrálu $\oint_c \left(-\frac{1}{x^2}, 2x\right) \cdot d\vec{s}$ a rozhodněte o možnosti užití

Greenovy věty, jestliže $c \subset \mathbb{E}_2$ je záporně orientovaná křivka :

- a) $c = \{[x, y] \in \mathbb{E}_2; x^2 + y^2 = 1\}$,
- b) $c = \{[x, y] \in \mathbb{E}_2; x^2 + (y - 2)^2 = 1\}$,
- c) $c = \{[x, y] \in \mathbb{E}_2; (x - 2)^2 + y^2 = 1\}$.

V kladném případě vypočítejte integrál pomocí Greenovy věty.

- | |
|---|
| a) neexistuje, nelze
b) neexistuje, nelze
c) existuje, lze; -2π |
|---|

- Je dáno vektorové pole \vec{f} a křivka c .
 - a) Napište Greenovu větu a ověřte, zda jsou splněny její předpoklady pro výpočet daného integrálu $\oint_c \vec{f} \cdot d\vec{s}$.
 - b) Hodnotu tohoto křivkového integrálu vypočítejte pomocí Greenovy věty.
 - c) Stejný křivkový integrál vypočítejte bez užití Greenovy věty.

543. $\vec{f} = (-y, x)$, $c = \{[x, y] \in \mathbb{E}_2; x^2 + y^2 = 16\}$, která je orientovaná záporně.

$[-32\pi]$

544. $\vec{f} = (1 - x^2, x(1 + y^2))$, $c = \partial D$ je hranice množiny $D = \langle 0, 2 \rangle \times \langle 0, 2 \rangle$, která je orientovaná záporně.

$\left[-\frac{28}{3}\right]$

545.* $\vec{f} = \left(\frac{2y^3}{3} + g(x), xy^2 + h(y)\right)$, kde g, h jsou libovolné funkce jedné proměnné se spojitou derivací v \mathbb{R} , c je záporně orientovaná hranice množiny

$$D = \{[x, y] \in \mathbb{E}_2; y \geq 0, y \leq 2 - x, x \geq y^2\}. \quad \left[\frac{13}{60} \right]$$

546. Pomocí křivkového integrálu vektorové funkce vypočítejte práci, kterou vykoná síla $\vec{f} = (x + 1, 2y)$ působením po dané orientované křivce:

a) c_1 : úsečka AB, s počátečním bodem $A = [-1, 0]$ a koncovým bodem $B = [1, 0]$.

b) $c_2 = \{[x, y] \in \mathbb{E}_2; x^2 + y^2 = 1, y \geq 0\}$ s počátečním bodem $B = [1, 0]$.

c) Pomocí Greenovy věty určete práci po uzavřené orientované křivce $c = c_1 \cup c_2$.

[a) 2, b) -2, c) 0]

547. Vypočtete cirkulaci $\vec{f} = \frac{2(y, -x)}{x^2 + y^2}$ po kladně orientované křivce $c = \{[x, y] \in \mathbb{E}_2; x^2 + y^2 = 16\}$. Lze použít Greenovu větu? Odpověď zdůvodněte! [-4\pi, nelze]

548. Pomocí Greenovy věty vypočtete cirkulaci vektoru $\vec{f} = (y, (x - y)^2)$ po záporně orientované křivce $c = \{[x, y] \in \mathbb{E}_2; (x - 1)^2 + y^2 = 1\}$. [-\pi]

549.* Odvoďte pomocí křivkového integrálu vzorec pro plošný obsah obrazce, který je ohraničen elipsou $c = \left\{ [x, y] \in \mathbb{E}_2; \frac{x^2}{a^2} + \frac{y^2}{b^2} = 1 \right\}$. [\pi ab]

550.* Užitím křivkového integrálu vypočtete obsah obrazce omezeného obloukem cykloidy $x = a(t - \sin t)$, $y = a(1 - \cos t)$, $t \in \langle 0, 2\pi \rangle$ a úsečkou z bodu $[0, 0]$ do bodu $[2\pi a, 0]$. [3\pi a^2]

551.* Nechť c_1 je úsečka z bodu $[0, 0]$ do bodu $[1, 1]$, c_2 je část paraboly $y = x^2$ opět z $[0, 0]$ do $[1, 1]$ a $I_1 = \int_{c_1} (x + y)^2 dx - (x - y)^2 dy$, $I_2 = \int_{c_2} (x + y)^2 dx - (x - y)^2 dy$. Užitím Greenovy věty vypočtete $I_1 - I_2$.

$$\left[\begin{array}{l} \pm \frac{1}{3}. \\ \text{Návod: } \oint_{c_1 \cup c_2} = \int_{c_1} - \int_{c_2} \text{ (záp.orient.)} \\ \text{nebo } \oint_{c_1 \cup c_2} = \int_{c_2} - \int_{c_1} \text{ (klad.orient.)} \end{array} \right]$$

552.* Pomocí Greenovy věty vypočtete integrál $\oint_c \left(xe^{-y^2}, -x^2 ye^{-y^2} + \frac{1}{x^2 + y^2} \right) \cdot d\vec{s}$, kde c je kladně orientovaný obvod čtverce s vrcholy $[1, 0]$, $[2, 0]$, $[2, 1]$, $[1, 1]$. \left[\frac{1}{2} \operatorname{arctg} \frac{1}{2} - \frac{\pi}{4} \right]

553. Pomocí Greenovy věty vypočtete integrál $\oint_c (y^2 e^x - y^3, 2ye^x - 3) \cdot d\vec{s}$, kde $c = c_1 \cup c_2$; $c_1 = \{[x, y] \in \mathbb{E}_2; x = 0, y \in \langle -2, 2 \rangle\}$, $c_2 = \{[x, y] \in \mathbb{E}_2; 4x^2 + y^2 = 4, x \geq 0\}$, přičemž $[0, 2]$ je počáteční bod křivky c_1 . [3\pi]